

21

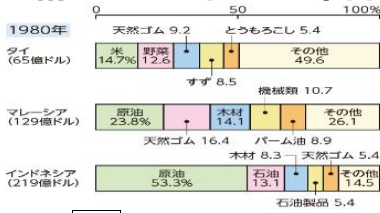
地理

教科書 P.58~P.65

変わる産業と貿易&豊かな天然資源に恵まれて

学習の目標： アジアの国々は、どのように経済を発展させたか説明できる。

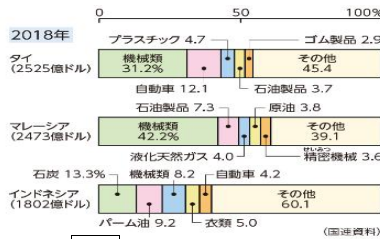
◎結びつきを強める東南アジア



◆Aのグラフから、1980年ごろの東南アジアの輸出品の特徴を読み取ろう！

資料A 東南アジアの国の輸出品

【1】：大規模に単一の作物を栽培している大農園のこと。昔は植民地にいた先住民や移民が低い賃金で働かされ、黒人奴隷も使われた

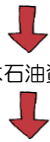
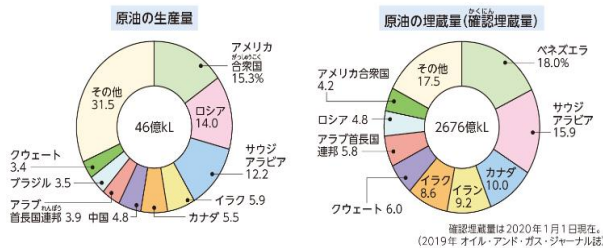
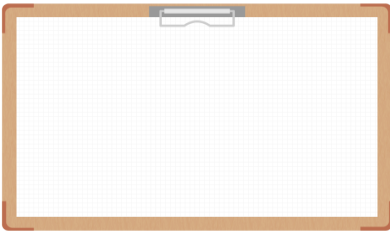


◆AとBのグラフから、東南アジアの産業がどのように変化したのか読み取ろう！

資料B 東南アジアの国の輸出品

※ 東南アジアにおける政治や経済、安全保障などに関する協力組織【2】

◆グラフから、原油の生産量と埋蔵量の特徴を読み取ろう！！



第二次世界大戦後

産油国には石油資源を開発する資金がなかった ⇒ 欧米の企業が開発して販売

原油の価格決定権は (産油国 ・ 欧米の企業) が握っていた！

3 ()

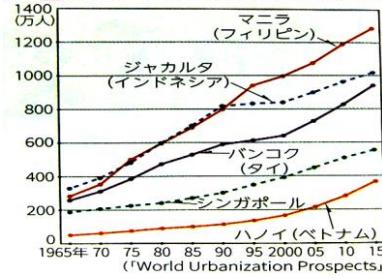
目的

原油生産の国産化
原油価格の安定

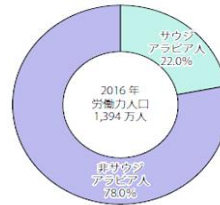
真の目的は？

◆東南・西アジア諸国が抱える課題を読み取ろう！

C1 東南アジアの主な都市の人口



サウジアラビアの労働者の割合



◎アジアまとめ 【記述問題 対策】

① 中国の南部や東南アジアで行われている農業と、インドの西部や中国の北部で行われている農業の違いを、気候に関連づけて説明しなさい。

② 中国では 1970 年ごろから一人っ子政策がとられたが 2016 年を境に政策を転換させたその理由を説明しなさい。

③ 中国で、1人あたりの工業生産額が多い地域が沿岸部に集中している理由を説明しなさい。

④ インドで ICT 関連産業が発展した背景について「インドの教育」に触れて説明しなさい。

コメントの追加 [孝浩1]: ①

中国の南部や東南アジア…温暖・多雨な気候で 稲作が盛ん。

インドの西部や中国の北部…寒冷・少雨の気候で小麦やとうもろこしなどの畑作が中心。

②

人口が増えすぎないようにするために行っていたが少子高齢化が進行し、経済的にも社会的にも大きな影響を与えたから。

③

経済特区が沿岸部に設置され、外国企業の誘致や進出により、周辺に工業地帯が発達したから

④

インドでは数学の教育水準が高いこと。英語が話せる低賃金の技術者が多いこと、新しい産業である ICT 関連産業はカーストの影響をあまり受けないのでこの仕事に就く人が多かったこと、国や州が援助して各地に技術者を育てる教育機関や研究所を作ったことなどによる。またアメリカとの時差が約半日であることも理由として挙げられる。

